

Сурагчийн нэр .....

Эхэлсэн: ..... он ..... сар .... өдөр



- Байгалийн юмс үзэгдэл өдөр, шөнөөс хамааран өөрчлөгддөгийг тайлбарлаж чадах уу?

Даалгавар

1 Шөнийн тэнгэрт юу олон харагддаг вэ? Зөвийг дугуйлаарай.



А.



Б.



В.



Г.



2 Зурагт байгаа хүнсний бүтээгдэхүүнийг ямар ургамлаар хийсэн бэ? Бичээрэй./...../



3 Багваахай, яргуй ургамал нь хэдэн сард цэцэглэдэг вэ? Зөв холбоорой.



5 сар



6-7 сар

Дууссан: .... сар .... өдөр



Өөрийн үнэлгээ:



Сурагчийн нэр .....

Эхэлсэн: ..... он ..... сар .... өдөр



Хүний өдөр тутмын амьдрал өдөр, шөнөөс хамааралтай байдаг. Өдөр яагаад дулаан, шөнө яагаад сэрүүн байдаг вэ?

### Даалгавар

1

Асуултад хариулаарай.

1. Өглөө ..... манддаг
2. Орой нар .....
3. Шөнө ..... болдог.
4. Өдөр ..... байдаг.

2

Аль нь дулаан ялгаруулдаг вэ?

А.



Б.



3

Билгүүн оройн 10 цагт унтаад өглөө 7 цагт боссон.



Хэдэн цаг унтаж амарсан бэ? .....

4

Бидний амьдралд санамсаргүй тохиолдлоор байгалийн аюулт үзэгдлүүд гарч байдаг. Энэ үед хамгийн түрүүнд хэнд мэдэгдэх вэ?



- Найздаа хэлэх
- 101 дугаар руу залгах
- Ээж, аавдаа утсаар мэдэгдэх
- Чангаар хашгирч олон хүнд хэлэх

Дууссан: .... сар .... өдөр



Өөрийн үнэлгээ:



Сурагчийн нэр .....

Эхэлсэн: ..... он ..... сар ..... өдөр



- Манай оронд жилийн дөрвөн улирал ээлжилдэг онцлогтой.
- Жилийн дөрвөн улираас хамаараад байгаль, хүмүүсийн амьдралд асар олон өөрчлөлтүүд гарч байдгийг мэдэх үү?

### Даалгавар

1

Улирал бидний амьдралд теле хичээлээ үзээрэй.

<https://old.econtent.edu.mn/videoEBS/1rangi/huno/1571>

Дараах өгүүлбэрийг уншаад тохирох улирлыг бичээрэй.

Цэцэг навч дэлгэрэв.

Цас хайлж яргуй дэлбээлэв.

Цана чаргаар гулгав.

Хүнсний ногоо хураав.

2

Жилийн дөрвөн улирал, өдрийн урт богино, халуун хүйтнээс хамаараад бид ямар хувцас сонгож хэрэглэх нь тохиромжтой вэ?



Өвөл

Зун

Хавар

Намар

3

Зурагт ямар улиралыг харуулсан байна вэ?



Blank writing lines for the answer.

Дууссан: ..... сар ..... өдөр



Өөрийн үнэлгээ:



Сурагчийн нэр .....

Эхэлсэн: ..... он ..... сар .... өдөр



Жилийн дөрвөн улирлаас хамаараад өдөр, шөнийн үргэлжлэх хугацаа ялгаатай байдаг. Зургийг ажиглаад аль улирлын болон өглөө, өдөр, оройн аль цагт авсан зураг болохыг хэлж чадах уу?

Даалгавар

1 Зургийг ажиглаарай. Ямар улирал, мөн өглөө, өдөр, оройн аль цаг хугацаанд авсан зураг вэ? Зөв харгалзуулан холбоорой.

Өглөө

Өдөр

Орой



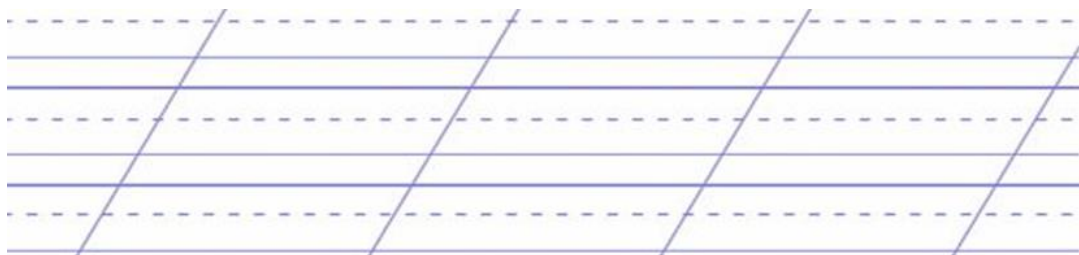


Хавар

Зун

Намар

Өвөл

2 Жилийн дөрвөн улирал, өдрийн урт богино, халуун хүйтнээс хамаараад байгальд ямар өөрчлөлт гардаг вэ? Зургийг ажиглаад улирал тус бүрд тохирох 2-3 үгтэй богино өгүүлбэр бичээрэй.



Дууссан: .... сар .... өдөр



Өөрийн үнэлгээ:



Сурагчийн нэр: .....

Эхэлсэн: ..... он ..... сар ..... өдөр




- Нарны байрлалыг ажиглан сүүдэр хаана үүсдэг болохыг мэдсэн үү?
- Гэрэл үүсгэгч ашиглан сүүдэр хаана тусахыг зураглаж сурсан уу?

Даалгавар

1

Амьтдын сүүдрийг тохируулан зөв холбоорой.



2

Зургийг ажиглаад тохирох үгийг нөхөж бичээрэй. Нөхөх үгс: / өглөө, өдөр, орой /



.....



.....



.....

Дууссан .....он .....сар .....өдөр.....цаг



Өөрийн үнэлгээ:



Сурагчийн нэр: .....

Эхэлсэн: ..... он ..... сар ..... өдөр



- Нарны байрлалыг ажиглан сүүдэр хаана үүсдэг болохыг мэдсэн үү?
- Гэрэл үүсгэгч ашиглан сүүдэр хаана тусахыг зураглаж сурсан уу?

Даалгавар

1

Зургийг ажиглан сүүдэр юуны тусламжтай үүсч байгааг бичнэ үү?



.....

.....

.....

.....

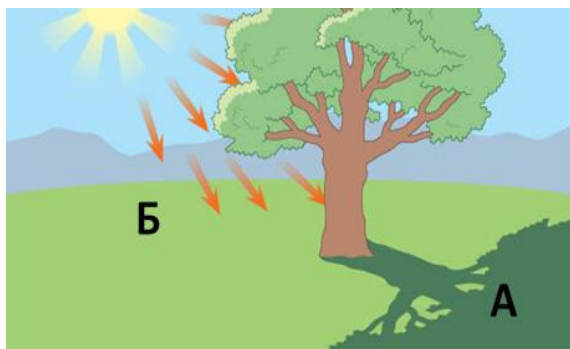
2

Нарны байрлалыг ажиглан дараах зүйлсийн сүүдрийг зурна уу?



3

Зургийг сайтар ажиглаад асуултанд хариулаарай.



1. Аль хэсэг нь дулаахан бэ?  
а А хэсэг б. Б хэсэг
2. Аль нь гэрэл үүсгэгч вэ?  
А. Нар Б. Мод





Сурагчийн нэр: .....

Эхэлсэн: ..... он ..... сар ..... өдөр



Жилийн дөрвөн улирал хэдэн сартай, сар бүр хэд хоногтой вэ? Хүүхдүүд ээ та нар байгаль ба хүмүүсийн амьдрал жилийн дөрвөн улирал, сараас хамаараад хэрхэн өөрчлөгддөг болохыг судлаарай.

Даалгавар

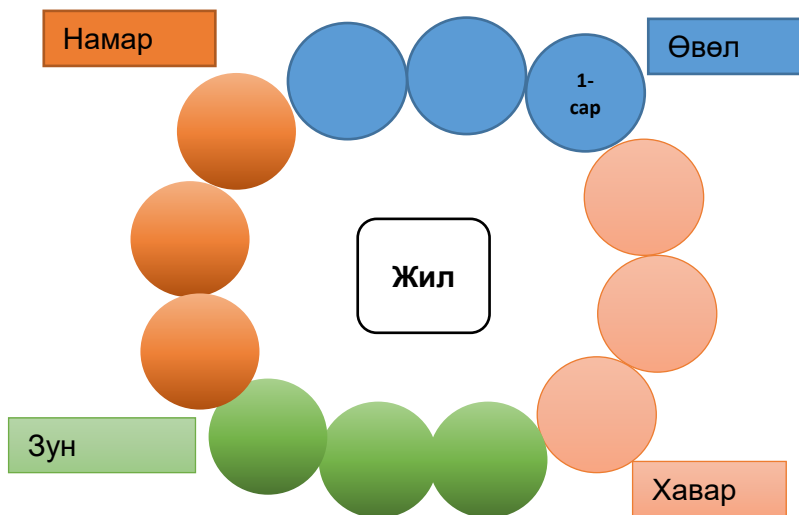
1 Зөв өгүүлбэрийг сонгон  будаарай.

- Бороо орж гол мөрөн хөлдөв.
- Намар болж сургуульдаа явлаа.
- Өвлийн улиралд аадар бороо орлоо.

2 Өвлийн улиралд өөрийн эрүүл мэндээ хамгаалахын тулд анхаарах 3 гол зүйлийг нэрлэж бичээрэй.

Handwriting practice lines with three slanted lines for writing.

3 Арван хоёр сарыг зөв нөхөж бичээрэй.



Сурагчийн нэр: .....

Эхэлсэн: ..... он ..... сар ..... өдөр



- Жилийн дөрвөн улирлын онцлог болон саруудыг ялгаж мэдэх, улирлын онцлогийг танин мэдэх.

**Даалгавар**

1

Зургийг ажиглаад байгалийн үзэгдлийг нэрлэн бичээрэй./цас орох, бороо орох, шороон шуурга, цасан шуурга,үер/



.....



.....



.....



.....



.....

2

Өгүүлбэрүүдийг анхааралтай уншаад асуултад тохирох үгийг нөхөж бичээрэй.

**ЮУ?**

1. Өвлийн улиралд ..... ордог.

**Ямар ?**

2. Намрын улиралд навч ..... өнгөтэй байдаг.

**Ямар?**

3. .... улиралд усны шувуу ирдэг.

**Ямар?**

**ЮУ?**

4. .... .. улиралд ..... орж, солонго татна.

3

Ямар улиралд ямар баяр болдог вэ? Зөв харгалзуулаарай.

- |          |                       |
|----------|-----------------------|
| 1. Намар | А. Цагаан сар         |
| 2. Хавар | Б. Улсын баяр наадам  |
| 3. Өвөл  | В. Шинэ жил           |
| 4. Зун   | Г. Хичээлийн шинэ жил |

Дууссан .....он .....сар .....өдөр.....цаг



Өөрийн үнэлгээ:





Сурагчийн нэр: .....

Эхэлсэн: ..... он ..... сар ..... өдөр



Цаг агаарын урьдчилсан мэдээг сонсоод тэмдэглэгээ хийж сурсан уу? Цаг агаарын байдлыг урьдчилан мэдсэнээр хувцсаа зөв сонгон өмсөж сурна.

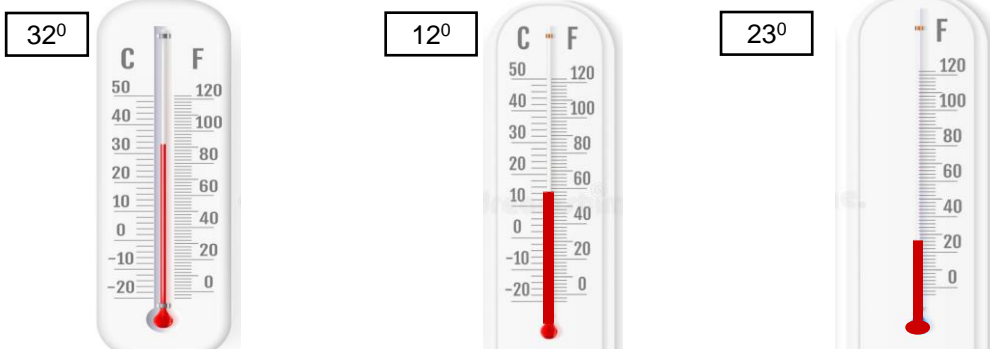
**Даалгавар**

1 Долоо хоногийн цаг агаарын мэдээг ажиглаад дараах асуултад хариулж бичээрэй.

Даваа	Мягмар	Лхагва	Пүрэв	Баасан

1. Ямар гарагт өдөр үүлтэй байна вэ?
2. Ямар гарагт бороотой байна вэ?
3. Ямар гарагт багавтар үүлтэй байна вэ?

2 Термометрийг ажиглаад зөв хариултыг дугуйлна уу?



Улаанбаатар хот                      Эрдэнэт хот                      Дархан хот

1. Хамгийн хүйтэн хэмтэй хотын нэрийг дугуйлна уу?  
 а. Улаанбаатар хот      б. Дархан хот      в. Эрдэнэт хот
2. Хамгийн дулаан хэмтэй хотын нэрийг дугуйлна уу?  
 а. Улаанбаатар хот      б. Дархан хот      в. Эрдэнэт хот

3 Улиралд тохирсон хувцсыг бичээрэй. .

Өвөл	Малгай ороол,.....
Хавар	Куртка,.....
Зун	Даашинз,.....
Намар	Польто,.....

Дууссан .....он .....сар .....өдөр....цаг



Өөрийн үнэлгээ:





Сурагчийн нэр: .....

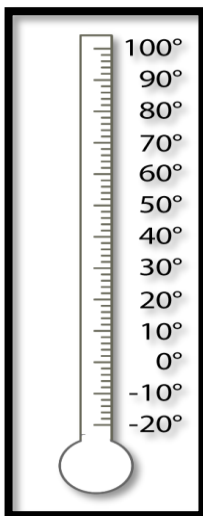
Эхэлсэн: ..... он ..... сар ..... өдөр



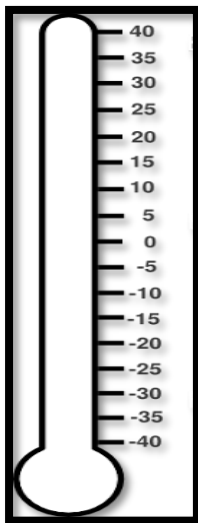
Гэрэлтэй ба сүүдэртэй газрын ялгааг таньж сурсан уу?  
Халуун хүйтний ялгааг термометр ашиглан хэмжиж тэмдэглэнэ.  
Ургамал бүр байгалийн ямарч нөхцөлд дасан зохицон ургаж чадах уу?

1

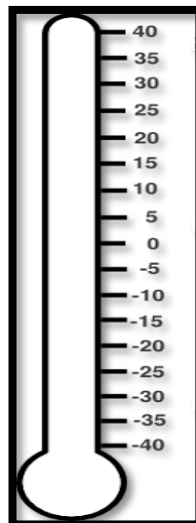
Заасан хэмийн дагуу заалтыг термометрт будаж тэмдэглээрэй.



32°



15°



27°

2

Ургамлын ургах орчин яагаад чухал вэ? Зургийг ажиглаад ялгааг тайлбарлаж бичээрэй.



.....  
.....  
.....  
.....



.....  
.....  
.....  
.....



Сурагчийн нэр: .....

Эхэлсэн: ..... он ..... сар .... өдөр



Эх орныхоо тухай илүү ихийг мэдэхэд бидэнд газрын зураг тусална.

Даалгавар

1 Газрын зураг глобус хоёр ямар ялгаатай юэ?



.....  
.....

2 Монгол орныг глобус болон газрын зураг дээр зааж тэмдэглээрэй. /★- тэмдэг тавиарай./



3 Хаана оршдог болохыг нэрлээрэй.

- 1. Алтайн нуруу                      а. зүүн хэсэгт
- 2. Хангайн нуруу                    б. баруун хэсэгт
- 3. Хэнтийн нуруу                    в. төв хэсэгт

Сурагчийн нэр: .....

Эхэлсэн: ..... он ..... сар .... өдөр



Газрын зурагт улс орнуудыг өөр өөр өнгөөр ялган үзүүлсэн байдаг.

Даалгавар

1

Ази тивийн газрын зургийг ажиглаарай. Хятад улс Монгол улсаас аль зүгт оршиж байна вэ? /...../



2

А. Ус /далай, нуур, гол мөрөн/-ийг газрын зурагт ямар өнгөөр тэмдэглэдэг вэ? /...../

Б. Хуурай газар /нам дор газар, тал газар, өндөр уул/-ыг ямар өнгөөр ялган тэмдэглэдэг вэ? Зөв харгалзуулаарай.

- А.өндөр уул
- Б.тал газар
- В.нам доор газар

- 1.шар өнгө
- 2.улаан хүрэн өнгө
- 3.хүрэн өнгө



Дууссан: .....сар .....өдөр



Өөрийн үнэлгээ:



Сурагчийн нэр: .....

Эхэлсэн: ..... он ..... сар .... өдөр



Дэлхийн хүмүүс амьдрал, арьс өнгөөрөө ялгаатай байдаг. Тэдгээрийг амьдардаг улс орон ба тивээр нь ялган тодорхойлно.

Даалгавар

1

Зургийг ажиглаарай. Ямар ялгаатай байна вэ? Эдгээр хүүхдүүдийн амьдардаг таван тивийг нэрлэж бичээрэй.



2

А. Монгол орон аль тивд оршдог вэ? Зурагт тэмдэглэнэ үү.  
Б. Канад, Япон, Герман зэрэг орнууд аль тивд оршдог вэ? Бичээрэй.



Activate

Дууссан: .....сар .....өдөр



Өөрийн үнэлгээ:

